


21 **Comunica.** Observa cada dibujo y completa.




$$\square + \square + \square + \square + \square + \square + \square$$

$$+ \square + \square + \square = \square$$

\square veces \square es \square velas.

$$\square \times \square = \square \text{ velas.}$$

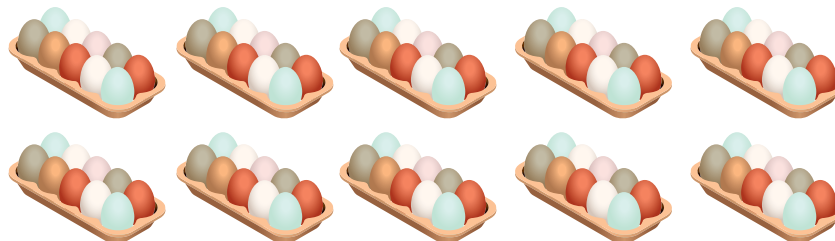


$$\square + \square + \square + \square + \square = \square$$

\square veces \square es \square flores.

$$\square \times \square = \square \text{ flores.}$$

22 **Razona.** Cuenta los grupos. Luego, completa la tabla con el número de huevos de acuerdo con la cantidad de cada caja.



Cantidad de cajas	Multiplicación
1	$1 \times 10 = 10$
2	$2 \times 10 = 20$
3	
4	
5	

Cantidad de cajas	Multiplicación
6	
7	
8	
9	
10	

- Observa los resultados de la tabla anterior y escribe una conclusión.
